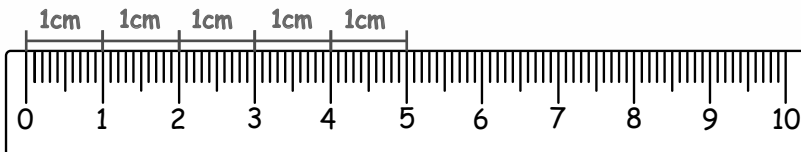
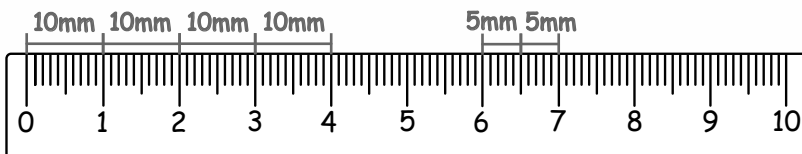


Odległość pomiędzy liczbami na linijce to 1 centymetr, skrót: cm



1 centymetr = 1 cm

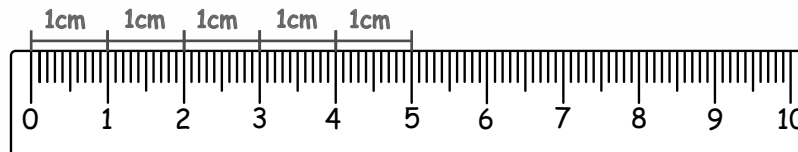
Kreseczki pomiędzy poszczególnymi liczbami to milimetry, skrót: mm



1 centymetr = 10 milimetrów
1 cm = 10 mm

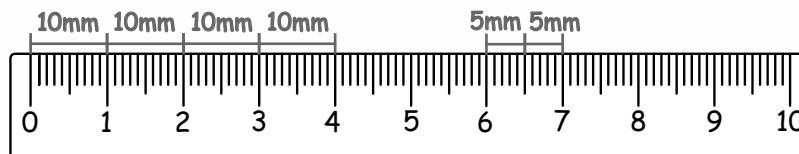
Uzupełnij: 1 cm = mm 10 mm = cm

Odległość pomiędzy liczbami na linijce to 1 centymetr, skrót: cm



1 centymetr = 1 cm

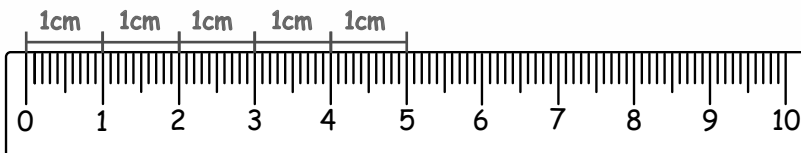
Kreseczki pomiędzy poszczególnymi liczbami to milimetry, skrót: mm



1 centymetr = 10 milimetrów
1 cm = 10 mm

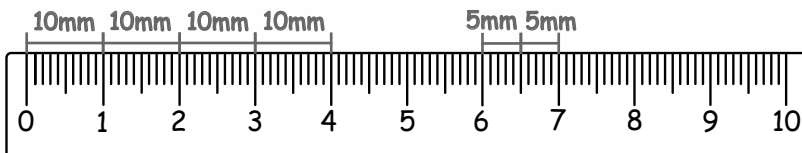
Uzupełnij: 1 cm = mm 10 mm = cm

Odległość pomiędzy liczbami na linijce to 1 centymetr, skrót: cm



1 centymetr = 1 cm

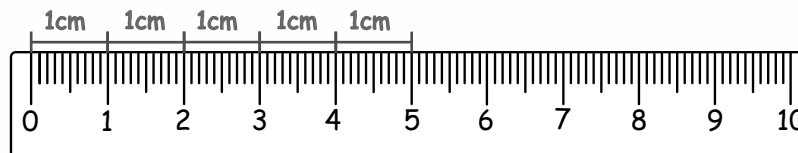
Kreseczki pomiędzy poszczególnymi liczbami to milimetry, skrót: mm



1 centymetr = 10 milimetrów
1 cm = 10 mm

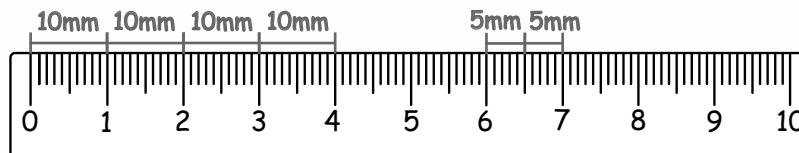
Uzupełnij: 1 cm = mm 10 mm = cm

Odległość pomiędzy liczbami na linijce to 1 centymetr, skrót: cm



1 centymetr = 1 cm

Kreseczki pomiędzy poszczególnymi liczbami to milimetry, skrót: mm



1 centymetr = 10 milimetrów
1 cm = 10 mm

Uzupełnij: 1 cm = mm 10 mm = cm