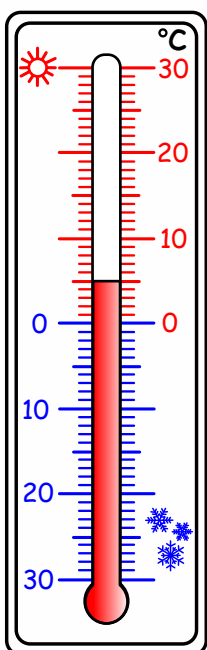


TEMPERATURA - odp. do zad. 4 -

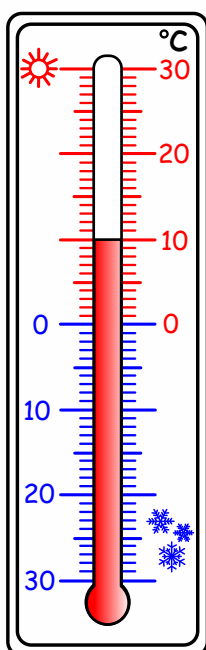
Zaznacz na poniższych termometrach następujące temperatury:

- na pierwszym termometrze zaznacz 5 stopni
- na drugim termometrze o 5 stopni więcej niż na pierwszym
- na trzecim termometrze o 10 stopni mniej niż na drugim
- na czwartym termometrze o 5 stopni mniej niż na trzecim
- na piątym termometrze o 20 stopni więcej niż na czwartym

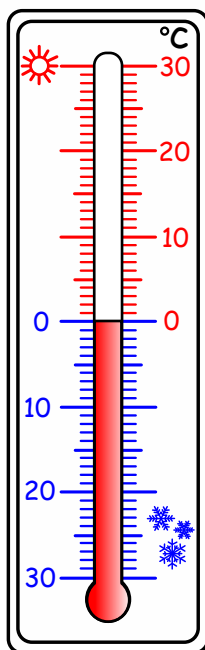
Pod każdym termometrem zapisz właściwą temperaturę.



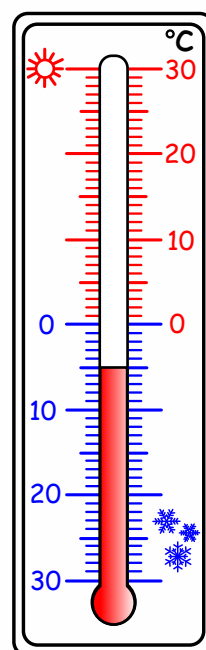
5°C



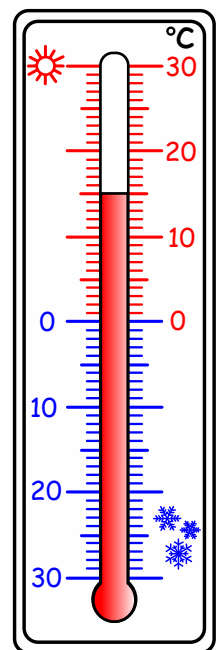
10°C



0°C



-5°C



15°C

Odpowiedz na poniższe pytania i wpisz prawidłowe odpowiedzi:

Najniższa temperatura to-5°C.....

Najwyższa temperatura to15°C.....

Ułóż temperatury z termometrów od najniższej do najwyższej:

-5°C, 0°C, 5°C, 10°C, 15°C