




ZNAK WIĘKSZOŚCI, MNIEJSZOŚCI I RÓWNOŚCI

- odp. do zad. 2 -

Wstaw odpowiedni znak większości, mniejszości lub równości (>, <, =).



8 > 2

1 < 9

1 < 3

2 = 2

5 = 5

8 > 4

9 > 7

7 > 5

8 < 9

3 < 4

6 > 1

9 > 6

3 > 8

6 > 3