




# ZNAK WIĘKSZOŚCI, MNIEJSZOŚCI I RÓWNOŚCI

- zadanie 2 -

Wstaw odpowiedni znak większości, mniejszości lub równości (>, <, =).



8		2
---	--	---

1		9
---	--	---

1		3
---	--	---

2		2
---	--	---

5		5
---	--	---

8		4
---	--	---

9		7
---	--	---

7		5
---	--	---

8		9
---	--	---

3		4
---	--	---

6		1
---	--	---

9		6
---	--	---

3		8
---	--	---

6		3
---	--	---