


ZNAK WIĘKSZOŚCI, MNIEJSZOŚCI I RÓWNOŚCI

- odp. do zad. 1 -


Policz rzeczy, wpisz liczby pod obrazkami i wstaw odpowiedni znak większości, mniejszości lub równości (>, <, =).



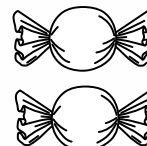
6



4



2




2



1




3




5




1




6



6



7



8

>

=

<

>

=

<