


WAGA i WAŻENIE - odpowiedzi -


Która myszka jest najlżejsza?

Aby to sprawdzić dodaj do siebie wszystkie odważniki znajdujące się na szalce, zapisz działanie i obliczyć je. Pod myszką zapisz jej wagę.


Najlżejszą myszkę pokoloruj na swój ulubiony kolor.



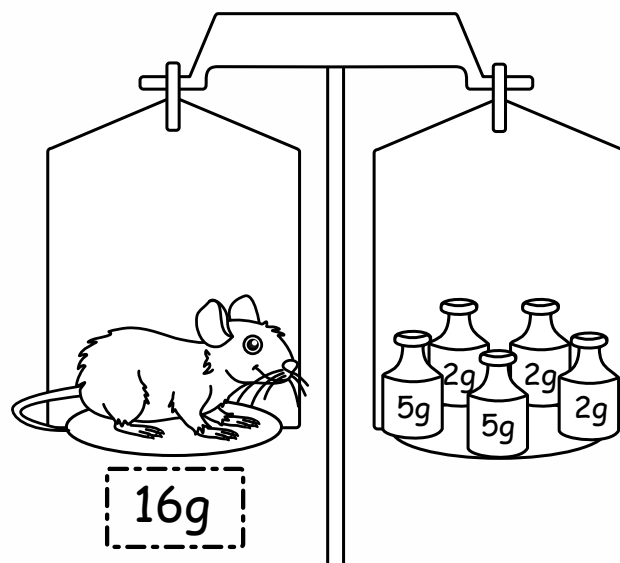
$$2g + 2g + 5g + 5g + 5g = 19g$$



$$5g + 2g + 2g + 1g + 1g = 11g$$



$$1g + 5g + 5g + 5g + 5g = 21g$$



$$2g + 2g + 2g + 5g + 5g = 16g$$