



WAGA i WAŻENIE - odpowiedzi -


Oblicz ile waży świnka. Pod wagą zapisz działanie dodając do siebie wszystkie kilogramy z szalki, oblicz je. Pod świnką zapisz jej wagę. U szereguj świnki od najcięższej do najlżejszej, pisząc cyferki na świnkach.




$$3\text{kg} + 1\text{kg} + 1\text{kg} + 5\text{kg} + 2\text{kg} = 12\text{kg}$$



$$4\text{kg} + 5\text{kg} + 1\text{kg} + 2\text{kg} + 2\text{kg} = 14\text{kg}$$



$$1\text{kg} + 5\text{kg} + 5\text{kg} + 2\text{kg} + 5\text{kg} = 18\text{kg}$$



$$2\text{kg} + 2\text{kg} + 2\text{kg} + 2\text{kg} + 2\text{kg} = 11\text{kg}$$