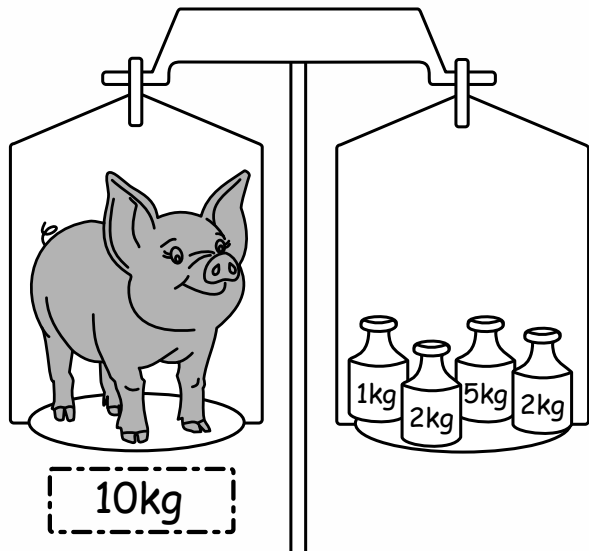
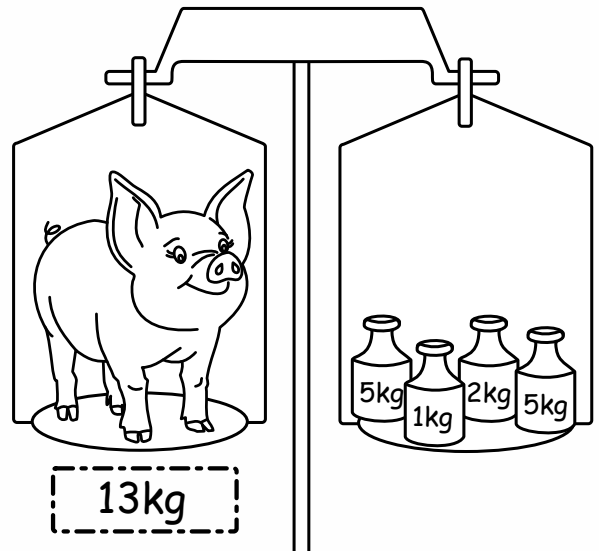


# WAGA i WAŻENIE - odpowiedzi -

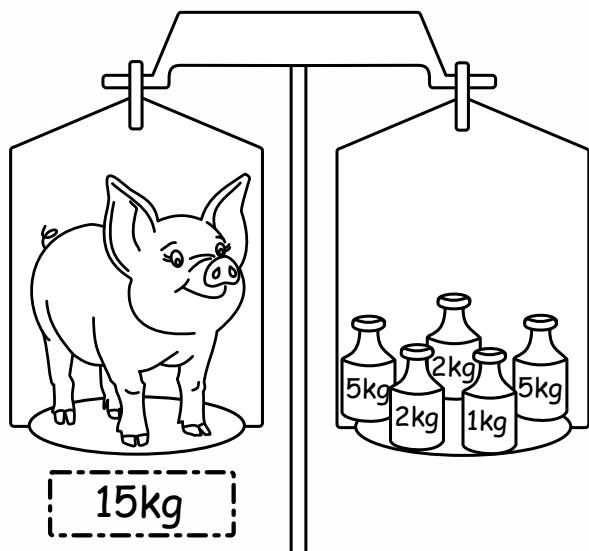
Pod każdą wagą zapisz działanie i oblicz je dodając do siebie odważniki. Wynikiem będzie waga świnki, którą należy wpisać pod szalką ze świnką. Najcięższą świnkę pokoloruj na różowo, a najlżejszą na szaro.



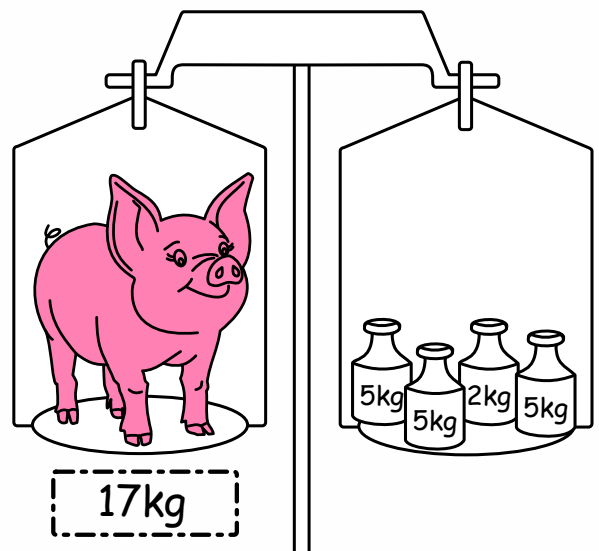
$$5\text{kg} + 2\text{kg} + 2\text{kg} + 1\text{kg} = 10\text{kg}$$



$$5\text{kg} + 5\text{kg} + 2\text{kg} + 1\text{kg} = 13\text{kg}$$



$$5\text{kg} + 5\text{kg} + 2\text{kg} + 2\text{kg} + 1\text{kg} = 15\text{kg}$$



$$5\text{kg} + 5\text{kg} + 5\text{kg} + 2\text{kg} = 17\text{kg}$$