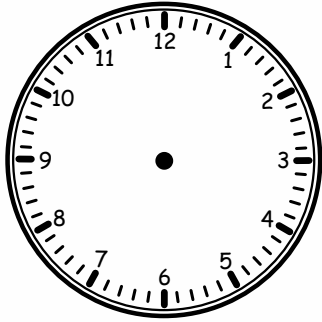


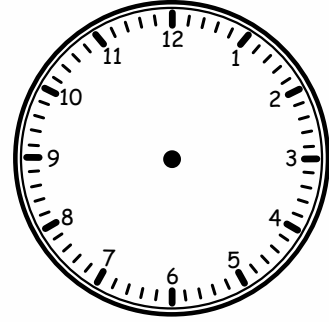
ZEGAR - zadanie -

Przeczytaj uważnie zadania i narysuj wskazówki na zegarach.

Ania dostała od babci nową książkę, którą zaczęła czytać w piątek o godzinie 19.00. Była nią tak zachwycona, że przeczytała całą książkę w trzy godziny. O której godzinie Ania skończyła czytać książkę?



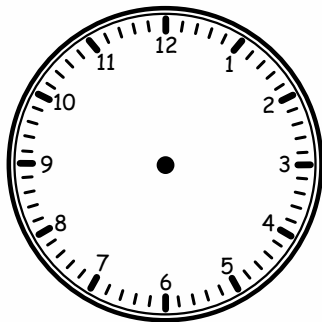
Ania zaczyna czytać książkę



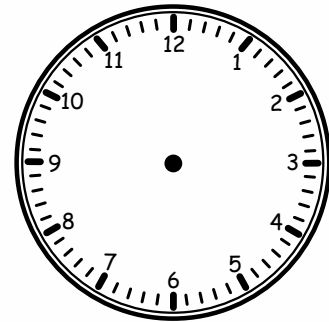
Ania kończy czytać książkę

Przemek zaprosił całą swoją klasę na urodziny, które trwały dwie godziny. Zabawa skończyła się o godzinie 18.00.

O której godzinie rozpoczęły się Przemka urodziny?



Początek zabawy urodzinowej Przemka

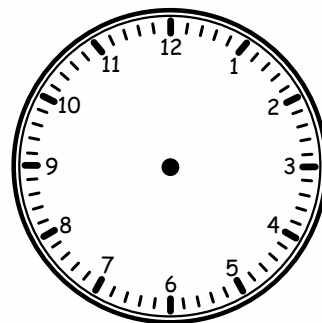


Koniec zabawy urodzinowej Przemka

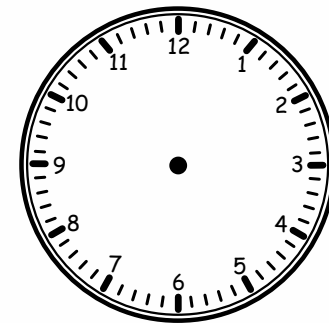
Iza z Kacprem umówili się na wspólną jazdę na rowerze o godzinie 17.30.

Jednak Kacper był u dentysty i spóźnił się 45 minut na spotkanie.

O której godzinie Iza z Kacprem zaczęli jeździć na rowerach?



Planowana godzina jazdy na rowerach



Ostateczna godzina jazdy na rowerach