

WAGA i WAŻENIE - odpowiedzi -


Zachowujemy równowagę!

Wiedząc, ile waży świnka, zastanów się ile może ważyć reszta zwierząt?


Świnka waży 12kg.

Ile ważą trzy kaczuszki?

Odpowiedź zapisz pod szalką z kaczuszkami.




Ile waży jedna kaczuszka?



Świnka waży 18kg.

Ile waży owieczka?


Odpowiedź zapisz pod szalką z owieczką.




Świnka waży 15kg.

Ile ważą trzy koguty?

Odpowiedź zapisz pod szalką z kogutami.



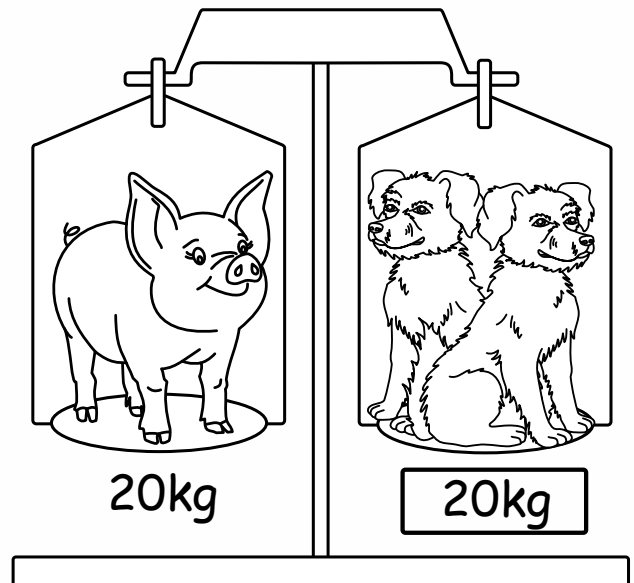
Ile waży jeden kogut?



Świnka waży 20kg.

Ile ważą dwa pieski?

Odpowiedź zapisz pod szalką z pieskami.



Ile waży jeden piesek?

