

DŁUGOŚĆ - odpowiedzi -

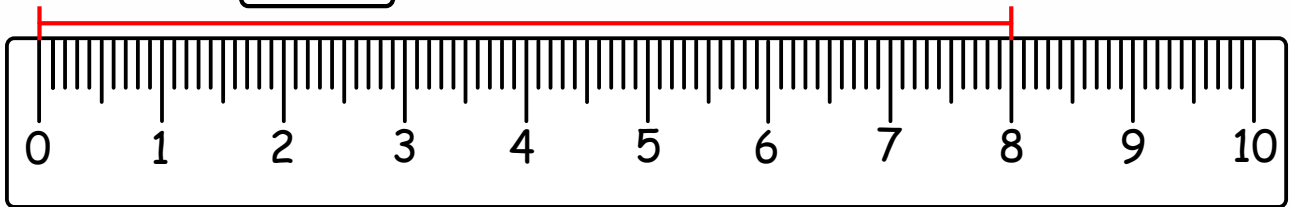
Odczytaj długości odcinków, podpisz je w centymetrach.

Odczytaną wartość zapisz również w milimetrach.

Przykład:

8cm

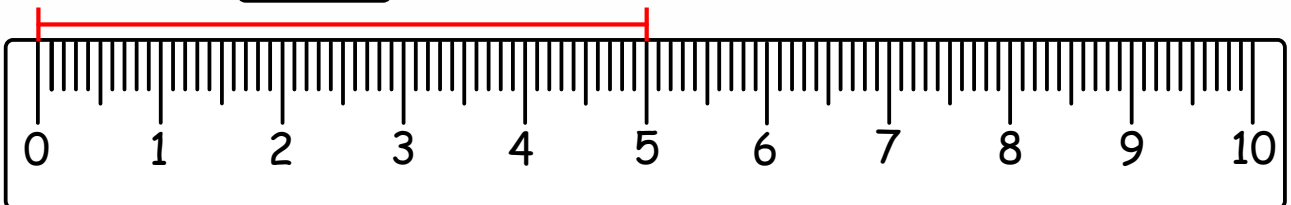
$$8 \text{ cm} = 80 \text{ mm}$$



Zadanie:

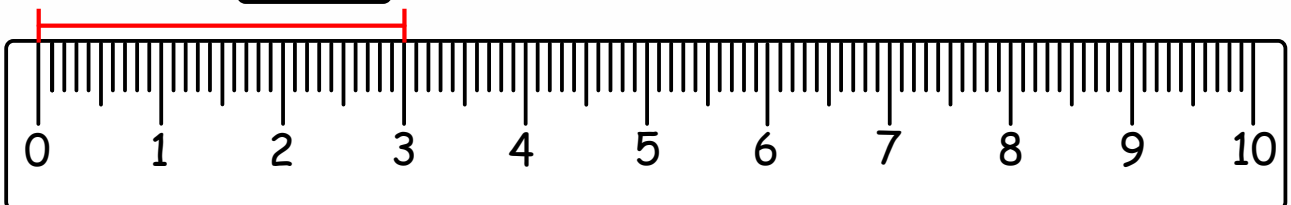
5cm

$$5 \text{ cm} = 50 \text{ mm}$$



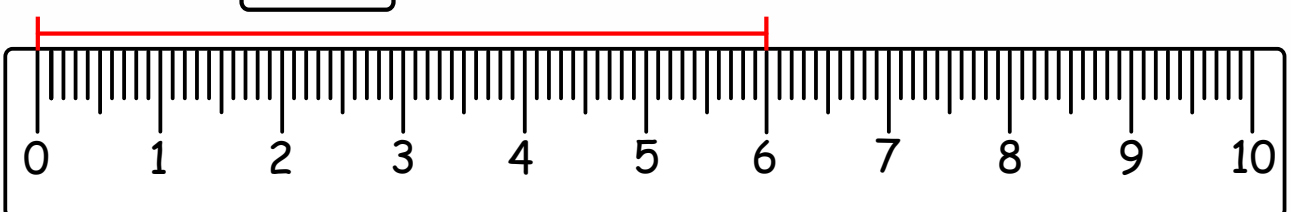
3cm

$$3 \text{ cm} = 30 \text{ mm}$$



6cm

$$6 \text{ cm} = 60 \text{ mm}$$



4cm

$$4 \text{ cm} = 40 \text{ mm}$$

