

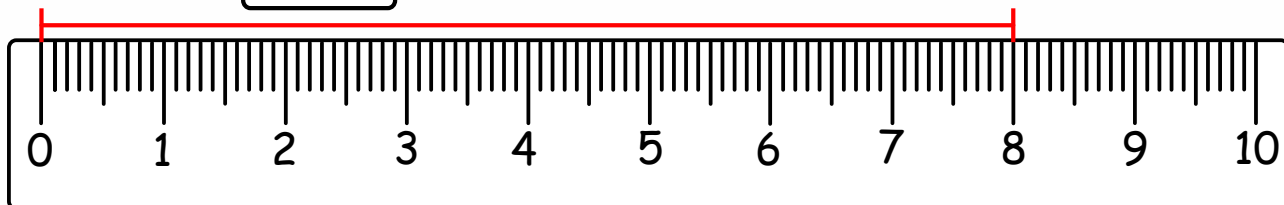
DŁUGOŚĆ - zadanie -

Odczytaj długości odcinków, podpisz je w centymetrach.

Odczytaną wartość zapisz również w milimetrach.

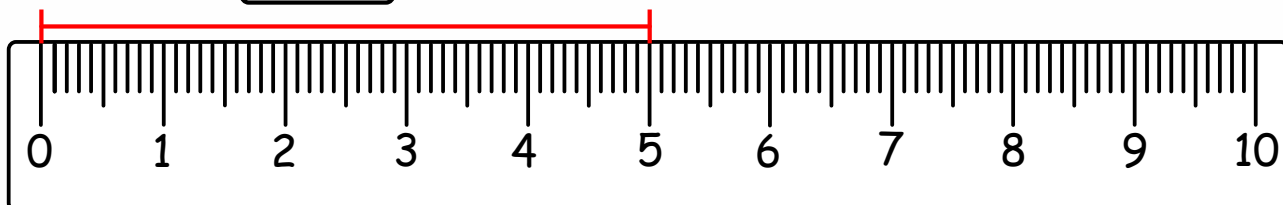
Przykład:

$$\boxed{8} \text{ cm} = \boxed{80} \text{ mm}$$

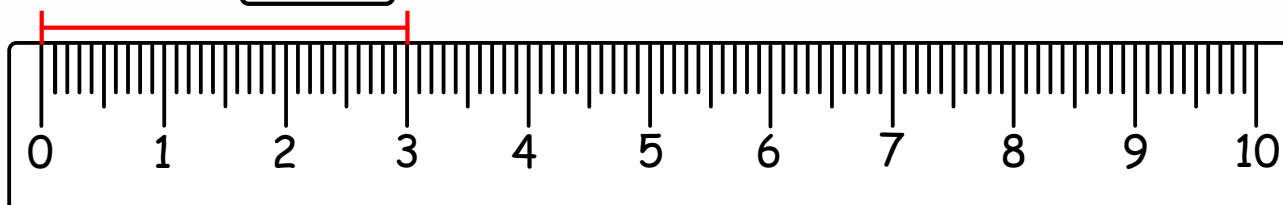


Zadanie:

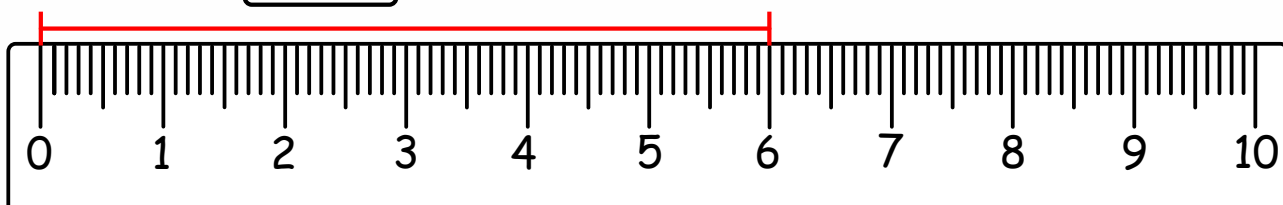
$$\boxed{} \text{ cm} = \boxed{} \text{ mm}$$



$$\boxed{} \text{ cm} = \boxed{} \text{ mm}$$



$$\boxed{} \text{ cm} = \boxed{} \text{ mm}$$



$$\boxed{} \text{ cm} = \boxed{} \text{ mm}$$

